

الجمهورية الجزائرية الديمقراطية الشعبية

وزارة التعليم العالي والبحث العلمي

جامعة 8 ماي 1945

كلية العلوم الإنسانية والاجتماعية

الامتحان الأول في مادة: عمارة ليبية بونية

السنة الثالثة ليسانس - آثار قديمة - 2019-01-21




الأسئلة ونموذج الإجابة:

1- ما هي الخاصية المشتركة للأضرحة الليبية البونية؟ (4 ن)

- مدافن الأسرة الملكية
- معزولة ومجال رؤيتها جّد واسع (تظهر من مختلف المناطق المجاورة)
- مداخلها من الجهة الشرقية.

2- ما أسم الأضرحة التالية، وأين تقع؟ (4 ن)



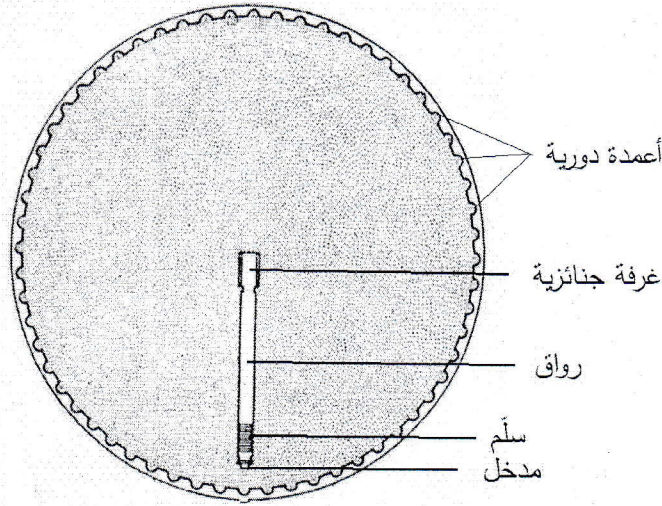
1- ضريح بني غثان، قرب سيقا.

2- ضريح الصومعة، بلخروب قرب قسنطينة.

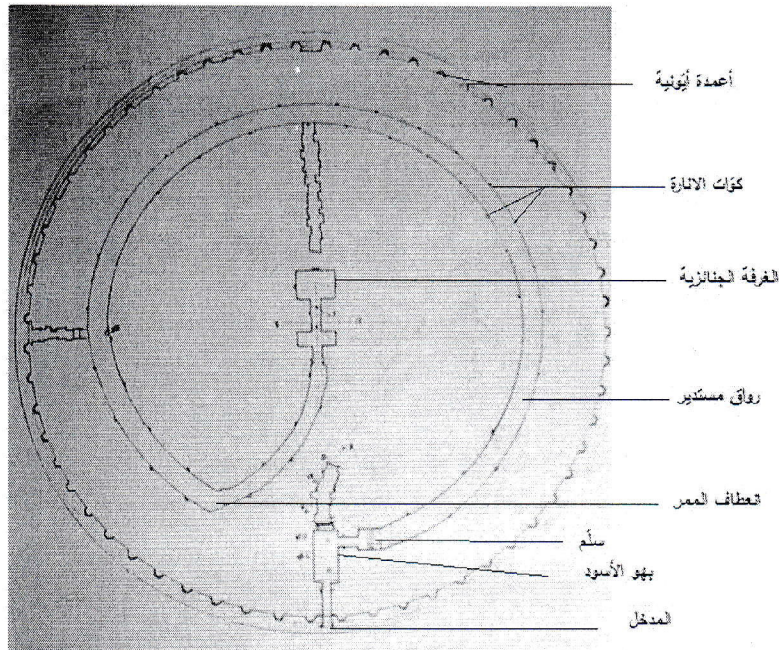
3- ضريح صبراتة، بليبيا

4- ضريح دوقا، بتونس.

3- أرسم مخططاً لضريح المدغاسن، مرفق ببطاقة تقنية (خاصة بالمخطط فقط) (4 ن)



4- عرّف مختلف أجزاء الضريح المبين على المخطط التالي. (4 ن)



5- ما هي خصائص المباليا . (4 ن)

مساكن سواء أكانت ثابتة أو منقولة، مصنوعة من المواد النباتية على الخصوص. تمّ بناءها من عيدان وجعل سقفها بالعشب الجاف أو الهشيم. وحسب شهادة سالوست، فهي أكواخ ممدودة الشكل بسقف له جوانب منحنية، فكانت تشبه هيكل سفينة مقلوبة.

الأستاذ: مراد زرارقة